

Name: _____

Datum: _____

BEWEIS

zum Geometrieplan OTTO und ANNE

① Verbinde die Gegenstände mit den richtigen Körpern.



Kugel



Kegel


Quader

Zylinder

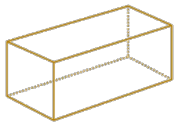
Würfel

Prisma

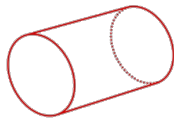
Pyramide



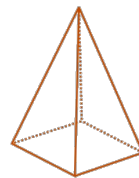
② Kreise jeweils den richtigen Namen ein



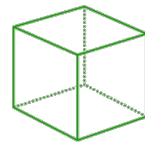
Würfel
Quader
Pyramide



Zylinder
Kegel
Prisma



Kegel
Pyramide
Zylinder



Würfel
Quader
Prisma

③ Zeichne hier 4 verschiedene Flächen auf und beschrifte sie mit ihrem Namen:

Krone

④ Was ist der Unterschied zwischen einer metallenen Fläche und einem blauen Körper?